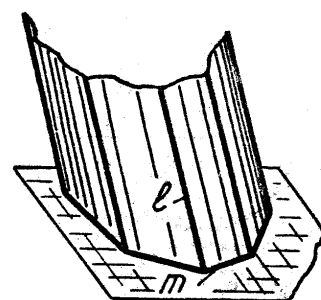
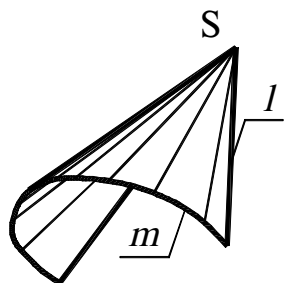


Задание 52. Назвать каждую из поверхностей, изображенную на чертеже. Является ли она линейчатой или нелinearчатой, развкрываемой или неразвкрываемой? Записать определитель каждой поверхности.

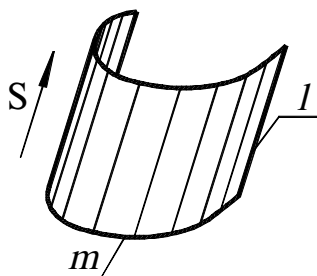
1)



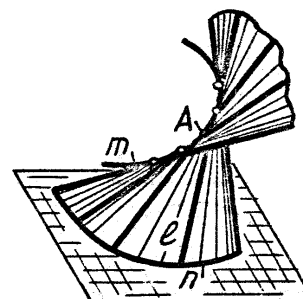
2)



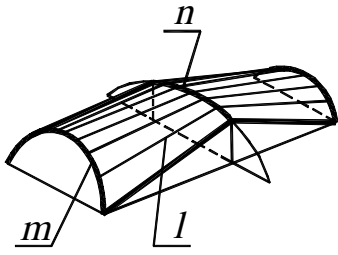
3)



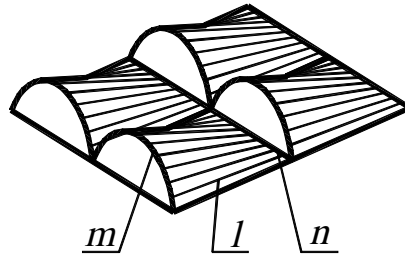
4)



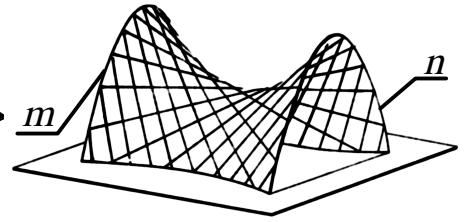
5)



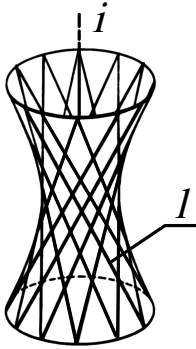
6)



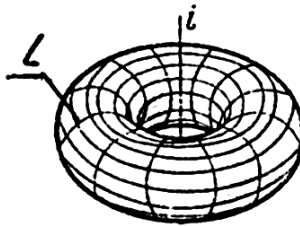
7)



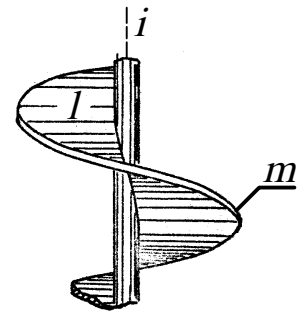
8)



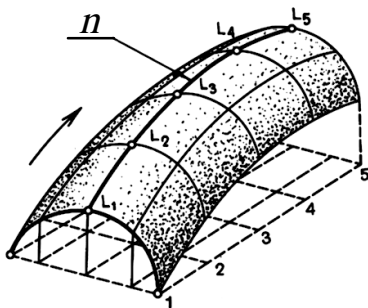
9)



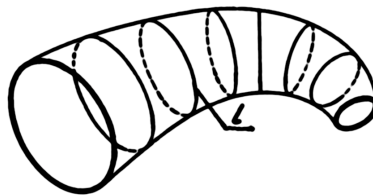
10)



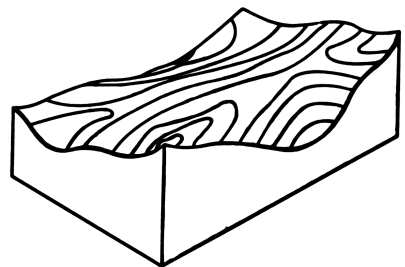
11)



12)



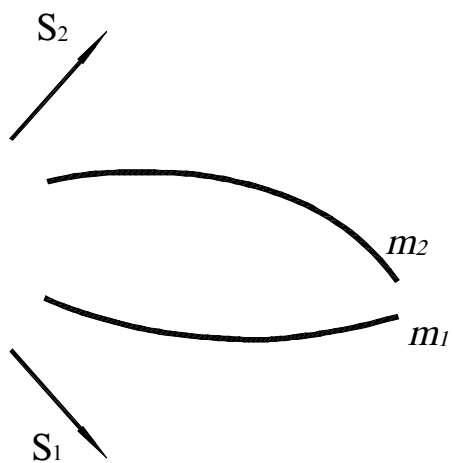
13)



Задача 55. Построить проекции каркаса следующих поверхностей:

а) цилиндрической, длина образующей которой равна 35 мм; б) конической. Найти горизонтальную проекцию линии, принадлежащей этой поверхности.

а)



б)

